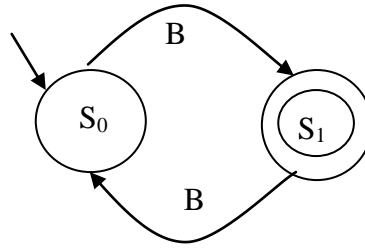


Esercizio 1.

Dato il seguente automa:



Cosa fa?, qual è il suo comportamento?, indicare degli esempi di cosa riconosce.

Esercizio 2.

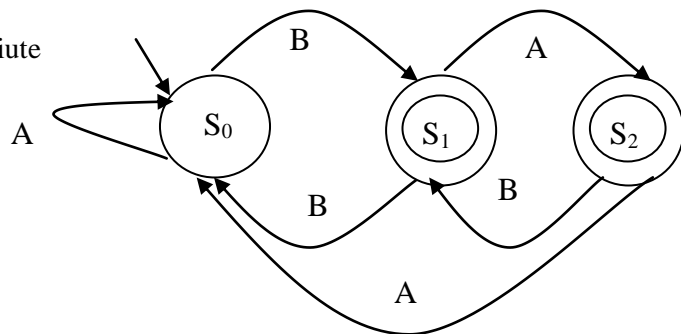
Disegnare un automa che riconosca un numero pari di A, deve essere riconosciuta anche la stringa contenete 0 (nessuna) A

Esercizio 3.

Dato il seguente automa:

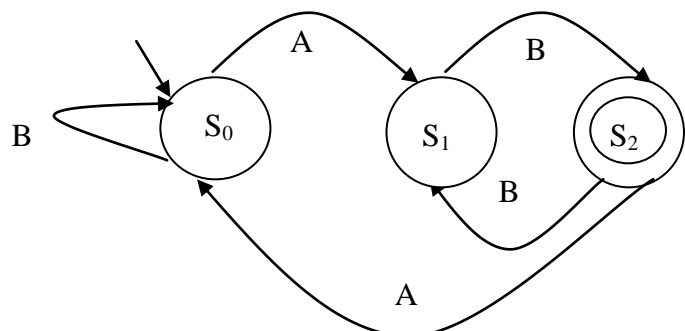
Indicare con una X le stringhe riconosciute

- AAB
- BB
- ABBB
- ABBA
- ABBBA
- ABABAB
- ABBABA



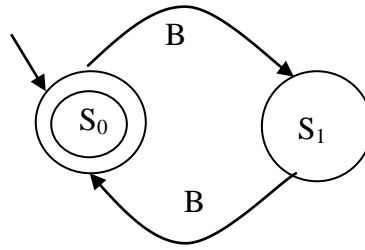
Esercizio 4.

Cosa manca dal presente Automa e perché manca qualcosa?



Esercizio 1.

Dato il seguente automa:



Cosa fa?, qual è il suo comportamento?, indicare degli esempi di cosa riconosce.

Esercizio 2.

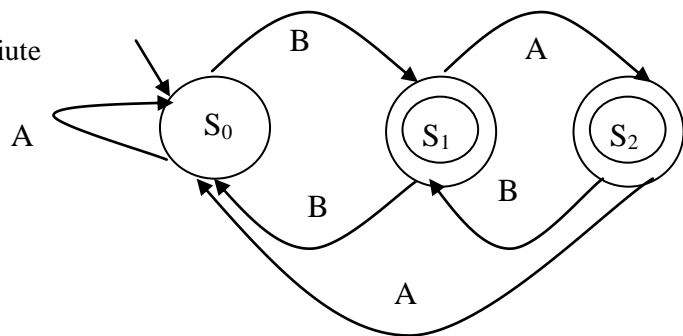
Disegnare un automa che riconosca un numero pari di A, deve essere riconosciuta anche la stringa contenete 0 (nessuna) A

Esercizio 3.

Dato il seguente automa:

Indicare con una X le stringhe riconosciute

- AAB
- BB
- ABAB
- ABAA
- ABBBA
- ABABBAB
- ABBABA



Esercizio 4.

Cosa manca dal presente Automa e perché manca qualcosa?

